



PRIJEMNI ISPIT

Datum: 30.06.2016.

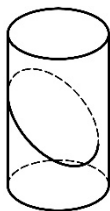
DEPARTMAN ZA ARHITEKTURU I URBANIZAM

Svako pitanje na testu, za tačan odgovor nosi pola boda, što ukupno čini 60 bodova. Delimično ili polovično tačni odgovori ne donose bodove.

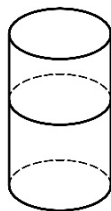
Pisati samo i jedino PLAVOM HEMIJSKOM OLOVKOM ŠTAMPANIM slovima i čitko. Svaki drugi način pisanja povlači diskvalifikaciju sa prijemnog ispita i 0 bodova.

Pisanje bilo kojim drugim sredstvom osim navedene plave hemijske olovke nije dozvoljeno. Svaki razgovor i dogovor, došaptavanje ili eventualno stavljanje odgovora na uvid drugima, povlači trenutno isključenje sa prijemnog ispita.

1. Zaokružiti broj/brojeve ispod slika na kojima je prikazan ravan presek cilindra (*napomena: ravan presek cilindra je presek cilindra i ravni*).



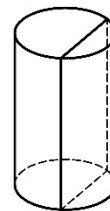
1



2



3



4

2. Zaokružiti broj/brojeve ispod onih oblika kojima se može pokriti ravan bez preklapanja i praznina.



1



2



3



4

3. Zaokružiti broj/brojeve ispod krivih koje odgovaraju ravnom preseku sfere (*napomena: ravan presek sfere je presek sfere i ravni*).



1



2



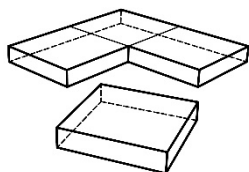
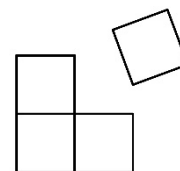
3



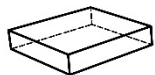
4

4. Na slici desno su prikazana u pogledu odgore četiri jednaka kvadra koja leže na horizontalnoj ravni.

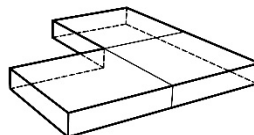
Zaokružiti broj/brojeve ispod slika na kojima su ta četiri kvadra prikazana u istim prostornim odnosima kao na slici desno.



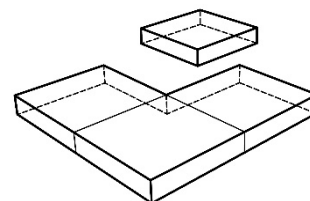
1



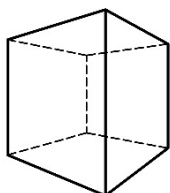
2



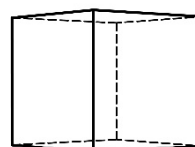
3



5. Ista kocka posmatrana je iz tačke A i iz tačke B. Rastojanje od kocke do tačke A je manje nego rastojanje od kocke do tačke B. U prazno polje ispod dva ponuđena prikaza kocke upišite iz koje tačke je posmatrana, A ili B.



A

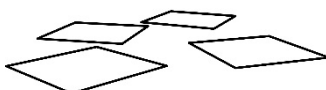


B

6. Zaokružiti broj/brojeve ispod slika koje prikazuju četiri kvadrata u istoj horizontalnoj ravni.



1



2

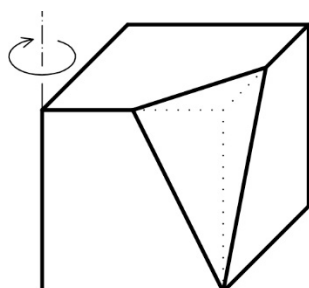


3

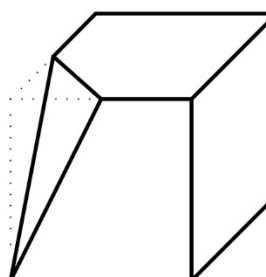
7. Kako se zove tačka na perspektivnoj slici u kojoj se seku paralelne prave? (Zaokružite broj ispred odgovora koji smatrate tačnim)

1. nedogled
2. horizont
3. kota

8. Telo dato na slici (a) zarotirati za 90° u naznačenom smeru oko date vertikalne ose i prikazati ga na slici (b).

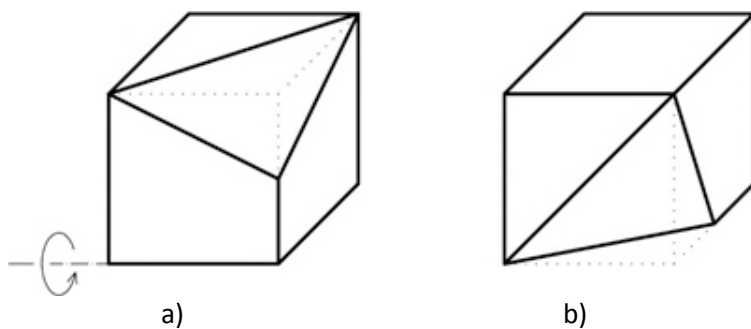


a)

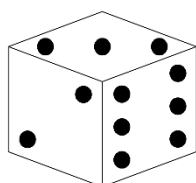


b)

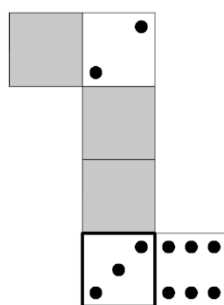
9. Telo dato na slici (a) zarotirati za 90° u naznačenom smeru oko date horizontalne ose i prikazati ga na slici (b)



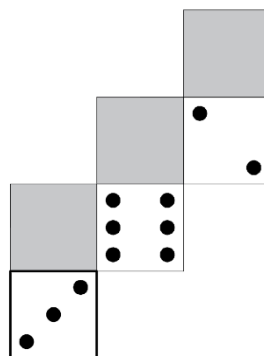
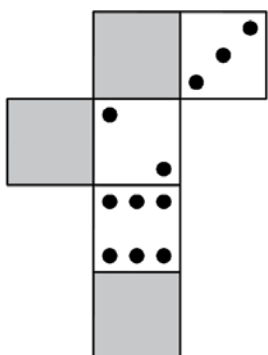
10. Na slici desno koja predstavlja razvijenu mrežu kocke A ucrtati nedostajuće tačkice tako da se može sastaviti kocka A.



Kocka A




11. Date su dve mreže iste kocke. Na desnoj mreži kocke ucrtati nedostajuće tačkice.




12. Kolika je dužina zida od 5m u razmeri 1:100? 5 cm


13. Prikazana su tri pravougaonika A, B i C. Zaokružite slovo A, B ili C ispod pravougaonika koji je na osnovu odnosa stranica najpribližniji zlatnom preseku.



A



B



C

14. Ako obe stranice pravougaonika prepolovimo, koliko puta će se umanjiti površina pravougaonika? Zaokružite slovo ispred odgovora koji smatrate tačnim.

- a. 2
- b. 4**
- c. 8

15. Data je kocka ivice a . Ako udvostručimo dužinu ivice kocke, za koliko će se uvećati zapremina kocke? Zaokružite slovo ispred odgovora koji smatrate tačnim.

- a. za $1a^3$
- b. za $4a^3$
- c. **za $7a^3$**

16. Ako je pad puta 5%, kako još možemo izraziti njegov nagib prema horizontalnoj ravni? (Zaokružite slovo/slova ispred odgovora koji smatrate tačnim)

- a. 20/100
- b. **1:20**
- c. 20

17. Na slici je data duž sa tačkama A, B i C na njoj. Zaokružite broj/brojeve ispred proporcije koja odgovara zlatnom odnosu.



1. $AC : BC = BC : AB$

2. $AB : AC = AC : BC$

3. $AC : AB = BC : AC$

18. Koja je uobičajena skraćenica za kompjuterski potpomognuto dizajniranje/projektovanje? (Zaokružite broj ispred odgovora koji smatrate tačnim)

- 1. CND
- 2. **CAD**
- 3. BIM
- 4. SMS

19. Kako se zove koncept organizovanja informacionog modela zgrade koji uzima u obzir vreme i troškove izgradnje objekta?

(Zaokružite broj ispred odgovora koji smatrate tačnim)

- 1. **5D BIM**
- 2. vizuelizacija
- 3. dwg
- 4. 3D model

20. Pojam reprezentacije u arhitekturi odnosi se na:

(Zaokružite broj/brojeve ispred odgovora koji smatrate tačnim)

- 1. Nacionalni tim arhitekata koji predstavlja državu na Bijenalima i drugim svetskim izložbama
- 2. Predmer i predračun građevinsko-zanatskih radova
- 3. **Sistem konvencija za predstavljanje, odnosno prikazivanje nekog objekta**

21. Iz kog perioda datira najstariji sačuvan arhitektonski plan objekta?

(Zaokružite broj ispred odgovora koji smatrate tačnim)

- 1. **Iz perioda Mesopotamije (oko 2150. godine p.n.e)**
- 2. Iz perioda kineske dinastije Sja (oko 2070. godine p.n.e)
- 3. Iz perioda minojske civilizacije (Krit) (oko 2830. godine p.n.e)
- 4. Iz perioda Konstantina Velikog (331. godina n.e)

22. Arhitektonske ideje o nekom prostornom rešenju mogu se predstaviti pomoću:

(Zaokružite broj/brojeve ispred odgovora koji smatrate tačnim)

- 1. **crteža**
- 2. **maketa**
- 3. **3D modela**
- 4. **algoritma**

23. Ko je projektovao *Vila Savoy* u Poasiju (1929-1931)? Le Korbizije

24. Koji je naziv projektantske kuće iz Švajcarske koja je projektovala *Serpentin paviljon* u Londonu za 2012. godinu? Hercog i de Meron

25. Ko je arhitekta dobitnik Prickerove nagrade za 2009. godinu, koji je projektovao *Serpentin paviljon* za 2011. godinu, karakterističan po unutrašnjem vrtu.

(Zaokružite broj ispred odgovora koji smatrate tačnim)

1. Mis van der Roe

2. Peter Cumtor

3. Zaha Hadid

26. Šta znači pojam *hortus conclusus*?

(Zaokružite broj ispred odgovora koji smatrate tačnim)

1. obojeni zid

2. rimski legionar

3. zatvoreni vrt

27. Ko je najpoznatija srpska umetnica u oblasti performansa, koja živi i radi u Njujorku i koja je izvela rad *Umetnik je prisutan* 2010. godine u muzeju *MoMA* u istom gradu, a na osnovu koga je snimljen i dokumentarni film? Marina Abramović

28. Ko je projektant eksperimentalne kuće *NA house* u Tokiju, sagrađene 2012. godine, koja gotovo da nema pregradnih zidova i podseća na konstrukciju napravljenu od skele?

(Zaokružite broj ispred odgovora koji smatrate tačnim)

1. Sou Fujimoto

2. Le Korbizje

3. Ričard Rodžers

29. U filmu Žan Lik Godara *Prezir* radnja filma se dešava i u jednoj od kanoničnih kuća moderne, koja se nalazi na ostrvu Kapri. Koja je to kuća?

(Zaokružite broj ispred odgovora koji smatrate tačnim)

1. Vila Tugenhat

2. Casa Malaparte

3. Vila Savoy

30. Ko je autor objekta *Vila Dal'Ava* u Parizu?

(Zaokružite broj ispred odgovora koji smatrate tačnim)

1. Bernar Čumi

2. Piter Ajzenman

3. Rem Kolhas

31. Za kog arhitektu se najčešće vezuje termin i koncept *tekućeg prostora*?

Ludvig Mis van der Roe

32. Koje vile Andrea Paladija i Le Korbizjea uporedno analizira Kolin Rou u svom kanonskom eseju *Matematika idealne vile*?

(Zaokružite broj ispred odgovora koji smatrate tačnim)

1. *Vila Farnsvort i Vila Savoj*
2. **Vila Foscari i Vila Štajn**
3. *Vila Muler i Vila Tugenhat*

33. Navedite arhitektu autora *Farnsvort kuće*? Ludvig Mis van der Roe

34. U kom veku je izgrađena kapela *Ronšan* koju je projektovao Le Korbizje? U XX veku

35. Frenk Lojd Rajt je projektovao prvi *Gughajm muzej* (1943-1959). U kom gradu se nalazi ovaj muzej? U Njujorku

36. U kom gradu se nalazi galerija moderne i savremene umetnosti *Tejt Modern*? U Londonu

37. Terminom *koncept u arhitekturi* označavamo:

(Zaokružite broj ispred odgovora koji smatrate tačnim)

1. **Jasnu formulaciju ideje koju planiramo da realizujemo kroz projekat**
2. Prezentaciju završenog projekta

38. Prostorna instalacija je:

(Zaokružite broj ispred odgovora koji smatrate tačnim)

1. Projektni zadatak
2. **Umetnička i/ili arhitektonska struktura kojom se ističe određeni prostorni stav**

39. Termin efemerna arhitektura se odnosi na:

(Zaokružite broj/brojeve ispred odgovora koje smatrate tačnim)

1. **Tipologije arhitektonskih objekata koje imaju ograničen vek trajanja**
2. Tipologije urbanih celina koje se nalaze u drugim državama
3. Arhitekturu Centralne Evrope u XV veku

40. Autor izreke "Mera kućice za psa je sam pas" je:

(Zaokružite broj ispred odgovora koji smatrate tačnim)

1. Bred Pit
2. Nikola Dobrović
3. **Virole le Dik**

41. U vreme vladavine vizantijskog cara Justinijana, u VI veku n.e, Antemije iz Trala i Isidor iz Mileta podižu *Svetu Sofiju* u Carigradu, građenu kao:

(Zaokružite broj ispred odgovora koji smatrate tačnim)

1. džamija
2. muzej
3. **crkva**

42. Autor izreke "Čovek je mera svih stvari" je:

(Zaokružite broj ispred odgovora koji smatrate tačnim)

1. Luis Kan
2. Vinsent van Gog
3. **Protagora**

43. Erehteon je grčki hram sa:

(Zaokružite broj/brojeve ispred odgovora koje smatrate tačnim)

1. dorskim stubovima
2. atlasima
3. **karijatidama**

44. Kako se zvao prvi poznati graditelj čuvene stepenaste piramide faraona Zosera u Sahari?

Imhotep

45. Kako su se zvali graditelji Partenona na Akropolju u V veku p.n.e? **Iktinos i Kalikrates**

46. Kako se zove jedini stil u arhitekturi koji je nazvan po jednom čuvenom arhitekti?

Paladijanizam

47. Kako se zvao arhitekta koji je osmislio sopstveni sistem mera nazvan *Le Modulor*?

Le Korbizje

48. Kako se zove autor *Kristalne palate* na Svetskoj izložbi u Londonu 1851. godine?

Džozef Pakston

49. Proces projektovanja arhitektonskog dela je složena metodologija koja ima sledeće karakteristike:

(Zaokružite broj/brojeve ispred odgovora koje smatrate tačnim)

1. **sadrži kreativni čin**
2. **ima veliki broj mogućih ishoda**
3. **sadrži više faza**

50. Šta je kontekst?

(Zaokružite broj/brojeve ispred odgovora koje smatrate tačnim)

1. Osnovna ideja o projektu
2. **Fizičko i duhovno okruženje objekta**
3. Projektantski tekst

51. Šta je *genius loci*?

(Zaokružite broj/brojeve ispred odgovora koje smatrate tačnim)

1. Problem mesta
2. **Duh mesta**
3. Duh arhitekture

52. Šta je utilitarna funkcija u arhitekturi?

(Zaokružite broj/brojeve ispred odgovora koje smatrate tačnim)

1. **Upotrebljivost arhitektonskog prostora**
2. Osvetljenost arhitektonskog prostora
3. Veličina arhitektonskog prostora

53. Šta je *Arhigram*?

(Zaokružite broj ispred odgovora koji smatrate tačnim)

1. vrsta dijagrama
2. jedinica mere u arhitekturi
3. **avangardna arhitektonska grupa koja je delovala '60-ih godina u Londonu**

54. Ko su projektanti kulturnog centra *Žorž Pompidu (Bobur)* u Parizu?

(Zaokružite broj ispred odgovora koji smatrate tačnim)

1. Ron Heron i Piter Kuk
2. **Ričard Rodžers i Renco Piano**
3. Žak Hercog i Pjer de Meron

55. Aleja je drvored uz:

(Zaokružite broj/brojeve ispred odgovora koje smatrate tačnim)

1. saobraćajnicu
2. autoput
3. **pešačku stazu**

56. *Nova umetnost (art nouveau)*, *jugendstil* i *secesija* su termini koji označavaju umetnički pokret značajan za razvoj arhitekture i primenjenih umetnosti, koji je obeležio:

(Zaokružite broj ispred odgovora koji smatrate tačnim)

1. prelaz iz XVII u XVIII vek
2. **prelaz iz XIX u XX vek**
3. prelaz iz XX u XXI vek

57. Na slici je prikazana poznata naslonjača Gerita Ritvelda.

Ona je zasnovana na istim likovnim principima kao i dela slikara:

(Zaokružite broj ispred odgovora koji smatrate tačnim)

1. Vinsenta van Goga
2. Pabla Pikasa
3. **Pita Mondrijana**
4. Dragana Maleševića Tapija



58. Fotelja sa slike predstavlja jedan od klasika modernog dizajna. Prvi put je predstavljena:

(Zaokružite broj ispred odgovora koji smatrate tačnim)

1. početkom XVIII veka
2. **sredinom XX veka**
3. početkom XV veka



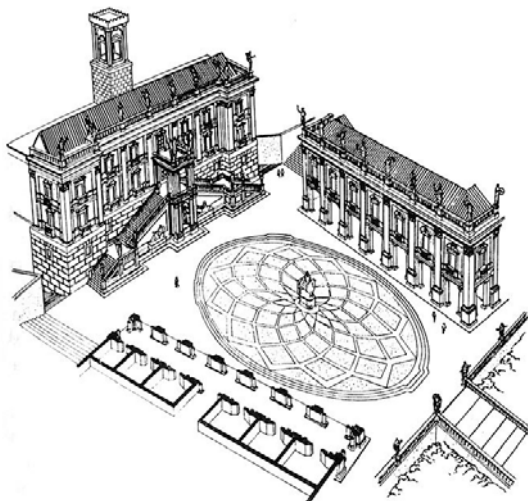
59. Kako se naziva umetnički pravac iz sredine XX veka, koji kao osnovni izvor inspiracije koristi masovnu kulturu, a čiji je značajan predstavnik bio Endi Vorhol? Pop art

60. Urbanističko projektovanje je disciplina koja je na presečnoj i sinteznoj tački, na ključnom spoju planiranja i arhitekture.

61. Koji od tri osnovna urbana elementa nedostaje u ovom nizu? Ulica, trg, blok

62. Navedite ime urbanog prostora koji je prikazan na slici?

Kapitolinski trg (Kampidoljo)



63. Kako se naziva grafički prikaz urbane forme u kojem su jednom bojom razdvojeni izgrađeni od neizgrađenih prostora? planimetrija.

64. Kako se po poziciji naziva tipologija objekata koja je prikazana na slici?

(Zaokružite broj ispred odgovora koji smatrate tačnim)

1. kuće u nizu
2. slobodnostojeće kuće
3. terasaste kuće



65. Kako se naziva grafički prikaz na slici?

(Zaokružite broj ispred odgovora koji smatrate tačnim)

1. poprečni profil ulice
2. podužni profil ulice



66. Prikaz urbane morfologije u određenoj razmeri izrađen različitim materijalima (kao što su drvo, papir, karton, metal, plastika, stiropor) naziva se maketa (model).

67. Koja od navedenih razmera se koristi u urbanističkom projektovanju?

(Zaokružite broj ispred odgovora koji smatrate tačnim)

1. 1 : 700
2. 1 : 1000
3. 1 : 80

68. Da li je navedena rečenica tačna?

Danas u svetu više ljudi živi u selima nego u gradovima.

(Zaokružite broj ispred odgovora koji smatrate tačnim)

1. DA
2. NE

69. Kako se naziva proces rasta izgrađene teritorije kroz umnožavanje predgrađa?

(Zaokružite broj ispred odgovora koji smatrate tačnim)

1. subvencija
2. suburbanizacija
3. eksproprijacija

70. Kako se naziva proces proširivanja, produbljivanja i ubravanja globalne međupovezanosti, koja posledično dovodi do relativizacije prostorno-vremenske distance?

(Zaokružite broj ispred odgovora koji smatrate tačnim)

1. korelacija
2. centralizacija
3. **globalizacija**

71. Da li je navedena rečenica tačna?

Gradovi koji se smanjuju („*shrinking cities*”) su gradovi u kojima se smanjuje broj stanovnika i ukupna ekonomska aktivnost u užem gradskom jezgri, dok površina koju zauzimaju najčešće raste.

(Zaokružite broj ispred odgovora koji smatrate tačnim)

1. **DA**
2. NE

72. Intervencija izgradnje i uklapanja novog objekta u postojeći niz naziva se interpolacija.

73. Da li je navedena rečenica tačna?

Aktuelne mere vezane za saobraćaj u centralnim područjima gradova podrazumevaju povećanje intenziteta kolskog saobraćaja.

(Zaokružite broj ispred odgovora koji smatrate tačnim)

1. DA
2. **NE**

74. Šta znači latinska reč *urbs*? grad

75. Kako se naziva grafički prikaz smera duvanja vetra, učestalosti njegovog pojavljivanja i intenziteta? ruža vetrova

76. Da li je navedena rečenica tačna?

Srednjovekovna bazilika imala je sakralnu funkciju.

(Zaokružite broj ispred odgovora koji smatrate tačnim)

1. **DA**
2. NE

77. U kojem veku je podignuta crkva *Svete Sofije* u Carigradu? u VI veku

78. Stil ili način oblikovanja karakterističan za period od polovine XII do XV veka u Evropi naziva se **gotika**.

79. Petrovaradinska tvrđava je primer fortifikacione arhitekture iz perioda:

(Zaokružite broj ispred odgovora koji smatrate tačnim)

1. renesanse
2. **baroka**
3. moderne

80. Koji od navedenih antičkih lokaliteta se nalazi na toku Dunava kroz Srbiju?

(Zaokružite broj/brojeve ispred odgovora koje smatrate tačnim)

1. Sirmijum (Sremska Mitrovica)
2. **Singidunum (Beograd)**
3. Medijana (Niš)

81. Čija je zadužbina manastir Studenica?

(Zaokružite broj ispred odgovora koji smatrate tačnim)

1. Miloša Obrenovića
2. Karađorđa
3. **velikog župana Stefana Nemanje**

82. Amfiteatri u antičkom Rimu su objekti u okviru kojih su se odvijale krvave borbe i spektakularne predstave. Pored više očuvanih amfiteatara, svojom veličinom i arhitektonskim oblikovanjem ističe se amfiteatar u Rimu. Kako se zove taj amfiteatar? **Koloseum** .

83. Grad Vavilon u Mesopotamiji bio je utvrđeni grad, a najpoznatija kapija gradskog utvrđenja zvala se **Kapija boginje Ištar** .

84. Kom periodu pripada *Fontana di Trevi*, jedna od najpoznatijih fontana, izgrađena u gradu Rimu, podignuta u XVIII veku, čiji je autor Nikola Salvi?

(Zaokružite broj ispred odgovora koji smatrate tačnim)

1. **umetnosti baroka**
2. umetnosti gotike

85. Kako se naziva pravilo proporcije koje se konstruiše obaranjem dijagonale upisane u polovinu kvadrata na jednu od njegovih stranica, čime se dobija odnos 1:1,618?

(Zaokružite broj ispred odgovora koji smatrate tačnim)

1. zlatni trougao
2. zlatni kvadrat
3. **zlatni presek**

86. Ko je projektovao kupolu bazilike *Svetog Petra* u Rimu?

(Zaokružite broj ispred odgovora koji smatrate tačnim)

1. Rafaelo
2. **Mikelandelo**
3. Donatelo
4. Splinter

87. Autor efemernog pozorišta *Teatro del Mondo*, realizovanog na Bijenalu u Veneciji 1979. godine je:

(Zaokružite broj ispred odgovora koji smatrate tačnim)

1. Paolo Portogezi
2. **Aldo Rosi**
3. Tadao Ando

88. Volt Dizni, američki crtač, animator i reditelj, nije autor dugometražnog crtanog filma:

(Zaokružite broj ispred odgovora koji smatrate tačnim)

1. Slonče Dambo
2. Lepotica i zver
3. **Asteriks i Kleopatra**

89. Naziv umetnosti artikulacije prostora u pozorištu, filmu i drugim vizuelnim medijima je:

(Zaokružite broj ispred odgovora koji smatrate tačnim)

1. koreografija
2. **scenografija**
3. kostimografija

90. Stav da "fotografija ne dodiruje umetnost kroz slikarstvo, već kroz pozorište" objavio je u svojoj knjizi "Svetla komora" francuski filozof:

(Zaokružite broj ispred odgovora koji smatrate tačnim)

1. **Rolan Bart**
2. Emanuel Kant
3. Žan Pol Sartr

91. Knjigu "Kratka istorija vremena" napisao je britanski teorijski fizičar:

(Zaokružite broj ispred odgovora koji smatrate tačnim)

1. **Stiven Hoking**
2. Isak Njutn
3. Albert Ajnštajn

92. Kako se zove najznačajnija manifestacija na svetu posvećena izlaganju scenskog dizajna i scenskog prostora?

(Zaokružite broj ispred odgovora koji smatrate tačnim)

1. **Praško kvadrijenale**
2. Praško proleće
3. Bijenale u Sao Paolu

93. Arhitektonski studio *White* je :

(Zaokružite broj ispred odgovora koji smatrate tačnim)

1. američka kompanija
2. **skandinavska kompanija**
3. britanska kompanija

94. Elaborat o uređenju gradilišta sadrži:

(Zaokružite broj ispred odgovora koji smatrate tačnim)

1. **Šemu gradilišta (situacioni plan), opis radova i mere bezbednosti i zdravlja na radu**
2. Statički proračun, šemu gradilišta (situacioni plan), opis radova i mere bezbednosti i zdravlja na radu

95. Faza izvođenja projekta ne obuhvata:

(Zaokružite broj/brojeve ispred odgovora koje smatrate tačnim)

1. **Imovinsko-pravne odnose**
2. Pripremne radove
3. Građenje objekta

96. Rad slikara Kloda Monea spada u:

(Zaokružite broj ispred odgovora koji smatrate tačnim)

1. realizam
2. **impresionizam**
3. kubizam

97. *Doručak na travi* i *Olimpija* su slike:

(Zaokružite broj ispred odgovora koji smatrate tačnim)

1. Pita Mondrijana
2. Ogista Renoara
3. **Euarda Manea**

98. Koje godine se desila Oktobarska revolucija?
(Zaokružite broj ispred odgovora koji smatrate tačnim)

1. 1816.
2. 2003.
3. **1917.**

99. Koji je najznačajniji avangardni pravac na našim prostorima?
(Zaokružite broj ispred odgovora koji smatrate tačnim)

1. nadrealizam
2. **zenitizam**
3. futurizam

100. Koji umetnici su pripadali impresionistima?
(Zaokružite brojeve ispred odgovora koje smatrate tačnim)

1. **Edgar Dega**
2. **Klod Mone**
3. **Ogist Renoar**
4. Pablo Pikaso
5. Vinsent van Gog

101. Koji umetnici su pripadali postimpresionistima?
(Zaokružite brojeve ispred odgovora koje smatrate tačnim)

1. **Pol Sezan**
2. **Vinsent van Gog**
3. Klod Mone

102. Futurizam je pravac koji karakterišu sledeće odlike:
(Zaokružite brojeve ispred odgovora koje smatrate tačnim)

1. Romantičarski duh
2. Impresija umetnika
3. **Slavljenje industrijske revolucije**
4. **Vera u tehnološka dostignuća**

103. Na razvoj kog avangardnog pokreta je uticalo Sezanovo slikarstvo? **Kubizam**

104. Na razvoj kog avangardnog pokreta je uticalo Gogenovo slikarstvo? **Fovizam**

105. Na razvoj kog avangardnog pokreta je uticalo van Gogovo slikarstvo? **Ekspresionizam**

106. Ko je autor zgrade *Banovine* (Izvršno veće AP Vojvodine) u Novom Sadu? **Dragiša Brašovan**

107. Šta je kompozicija?

(Zaokružite broj ispred odgovora koji smatrate tačnim)

1. **Povezivanje, sastavljanje odabranih elemenata u neku celinu, umetnička obrada jedne ideje u skladu sa zahtevima materijala i sredstava, u određenoj vrsti izraza**
2. Međusobna jednakost delova prema celini

108. Od kojih grčkih reči je nastala reč arhitektura? **arhi i tektonikos**

109. U kom gradu se nalaze Hradčani, koje profesor Ranko Radović opisuje u svojoj knjizi *Nova antologija kuća*? u Pragu

110. Koje boje su paviljoni u *Parku La Vilet* u Parizu? crvene

111. U kojoj državi se nalazi *Vila Mairea* arhitekta Alvara Alta? u Finskoj

112. Navedite arhitektu koji je projektovao *Sidnejsku operu*. Jorn Utzon

113. Podižući *Novi Rim* u starom Bizantu, car Konstantin postavio je temelje vizantijske arhitekture i umetnosti. Stari Bizant se potom zvao Konstantinopolj, zatim Carigrad. Kako se ovaj grad danas zove? Istanbul

114. Navedite naslov čuvenog romana u kome je glavni lik bankarski činovnik *Jozef K.*? Proces

115. Da li je književna dela *Prokleta avlija* i *Ex Ponto* napisao isti autor?
(Zaokružite broj ispred odgovora koji smatrate tačnim)

1. DA
2. NE

116. Ko je autor drame *Ujka Vanja*? Anton Pavlovič Čehov

117. Ko je autor drame *Gospoda Glembajevi*? Miroslav Krleža

118. Kako se zove slika Pabla Pikasa iz 1937. godine, koja je nastala nakon nemačkog bombardovanja grada u Španiji, u vreme građanskog rata? Gernika

119. Da li je tačna sledeća tvrdnja:

Operu *Toska* je napisao Đuzepe Verdi.

(Zaokružite broj ispred odgovora koji smatrate tačnim)

1. DA
2. NE

120. Koji od navedenih termina označavaju muzičke instrumente?

(Zaokružite brojeve ispred odgovora koje smatrate tačnim)

- | | |
|--------------------|-------------------|
| 1. koral | 5. oratorijum |
| 2. madrigal | 6. pasija |
| 3. <u>klavsen</u> | 7. <u>čembalo</u> |
| 4. <u>saksofon</u> | 8. forte |